



UNIVERSIDADES PÚBLICAS DE LA COMUNIDAD DE MADRID
EVALUACIÓN PARA EL ACCESO A LAS ENSEÑANZAS
UNIVERSITARIAS OFICIALES DE GRADO

Modelo

Curso **2018-2019**

MATERIA: GEOGRAFÍA

INSTRUCCIONES GENERALES Y CALIFICACIÓN

Después de leer atentamente todas las preguntas, el alumno deberá escoger **una** de las dos opciones propuestas y responder a las cuestiones de la opción elegida.

CALIFICACIÓN: El valor de las preguntas se asigna al final de sus enunciado.

TIEMPO: 90 minutos.

OPCIÓN A

SECCIÓN TEÓRICA

1ª Parte: “Los paisajes agrarios de la España peninsular”.

Desarrolle, de manera sintética, el tema propuesto atendiendo a los siguientes apartados (utilice, como máximo, una cara y media de un folio).

1. Factores de localización.
2. Principales aprovechamientos agrarios.

Puntuación máxima: 2,5 Puntos

2ª Parte: Defina con precisión ocho de los diez **conceptos** siguientes (escriba, como máximo, una cara de un folio):

Rambla, Envejecimiento demográfico, Pueblo calle, Despoblación, Amplitud térmica, Escala gráfica, Ecúmene, Padrón, Caudal, Berrocal.

Puntuación máxima: 2 Puntos

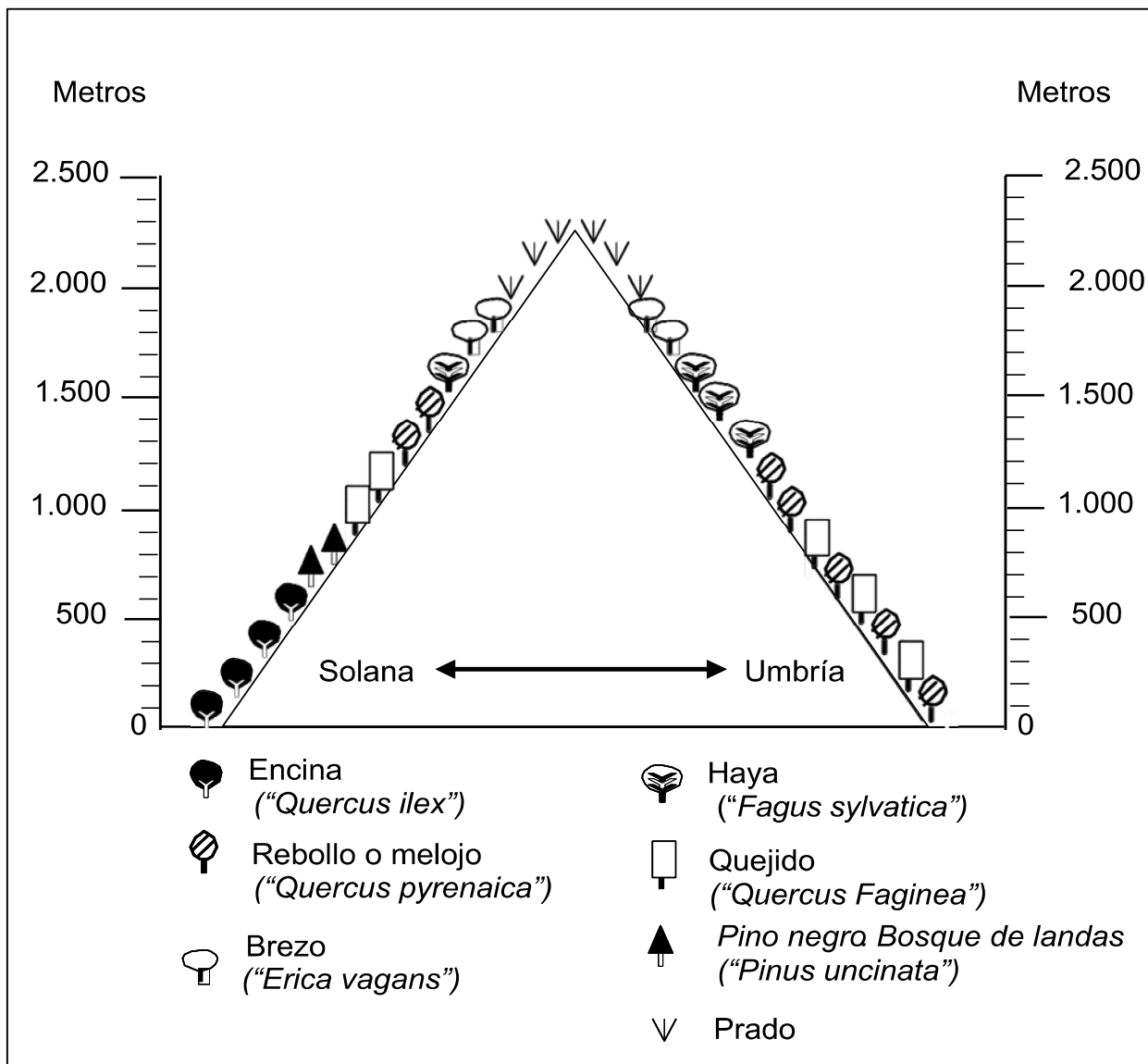
SECCIÓN PRÁCTICA

3ª Parte: Comente la **lámina etiquetada con la Opción A**, en el siguiente orden:

1. Elementos del medio físico.
2. Elementos del medio humano.
3. La relación entre ellos.
4. Indique el tipo de paisaje geográfico que muestra la fotografía.

Puntuación máxima: 1,5 Puntos

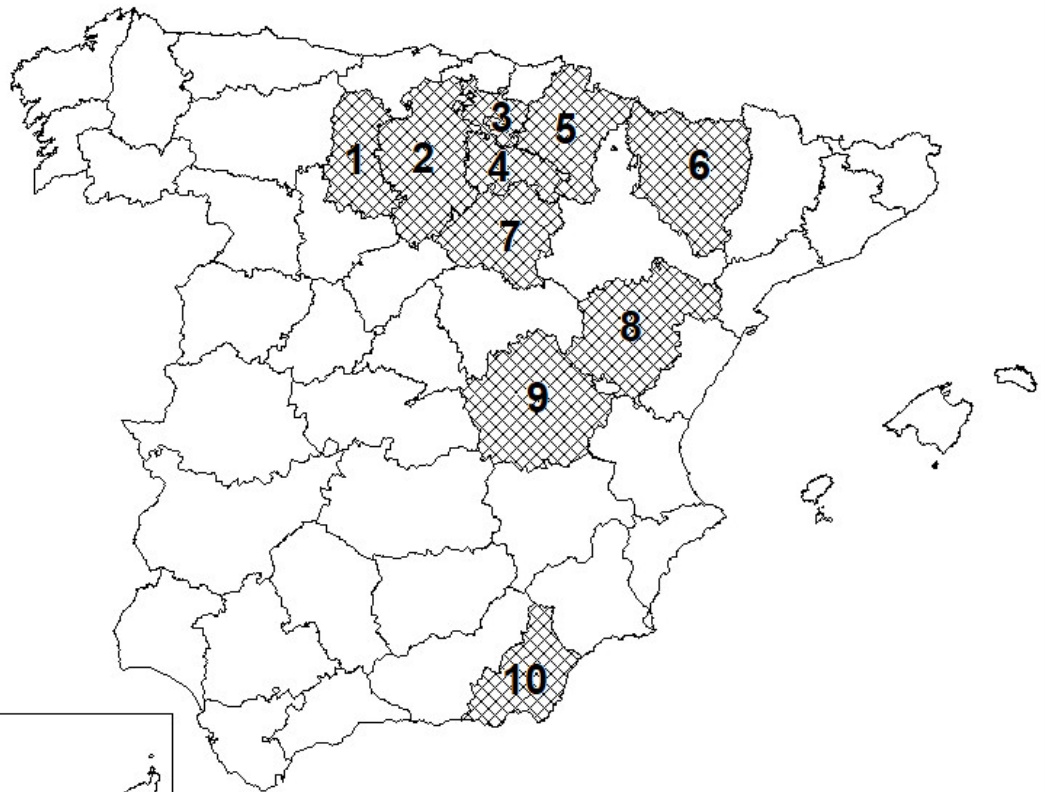
4ª Parte: Comente el siguiente gráfico, “Cliserie del Sistema Ibérico (Sierra de la Demanda), atendiendo, al menos, a los siguientes aspectos: - Características y distribución de las especies. - Factores que influyen en su distribución. - Posibles usos y aprovechamiento de las mismas.



Puntuación máxima: 2 Puntos

5ª Parte: A la vista del mapa adjunto, “Provincias con un porcentaje de población activa ocupada en el sector servicios inferior a 65,6% (Media nacional = 76,2%)” indique el nombre de las provincias numeradas, y señale las posibles causas de este hecho.

PROVINCIAS CON UN PORCENTAJE DE POBLACIÓN ACTIVA OCUPADA EN EL SECTOR SERVICIOS INFERIOR A 65,6 %. MEDIA NACIONAL = 76,2 %



FUENTE: INE. Encuesta Población Activa IV Trimestre 2015

Puntuación máxima: 2 Puntos

OPCIÓN B

SECCIÓN TEÓRICA

1ª Parte: Tema “La meseta y las unidades de relieve interiores”.

Desarrolle, de manera sintética, el tema propuesto atendiendo a los siguientes apartados (utilice, como máximo, una cara y media de un folio).

1. Características generales de la meseta.
2. Principales unidades interiores: localización y características geológicas.

Puntuación máxima: 2,5 Puntos

2ª Parte: Defina con precisión ocho de los diez **conceptos** siguientes (escriba, como máximo, una cara de un folio):

Explotación agrícola, O.P.E.P, Centro Comercial, Fotografía aérea, Latifundio, Energía de biomasa, Economía sumergida, Holding, A.V.E, Meandro.

Puntuación máxima: 2 Puntos

SECCIÓN PRÁCTICA

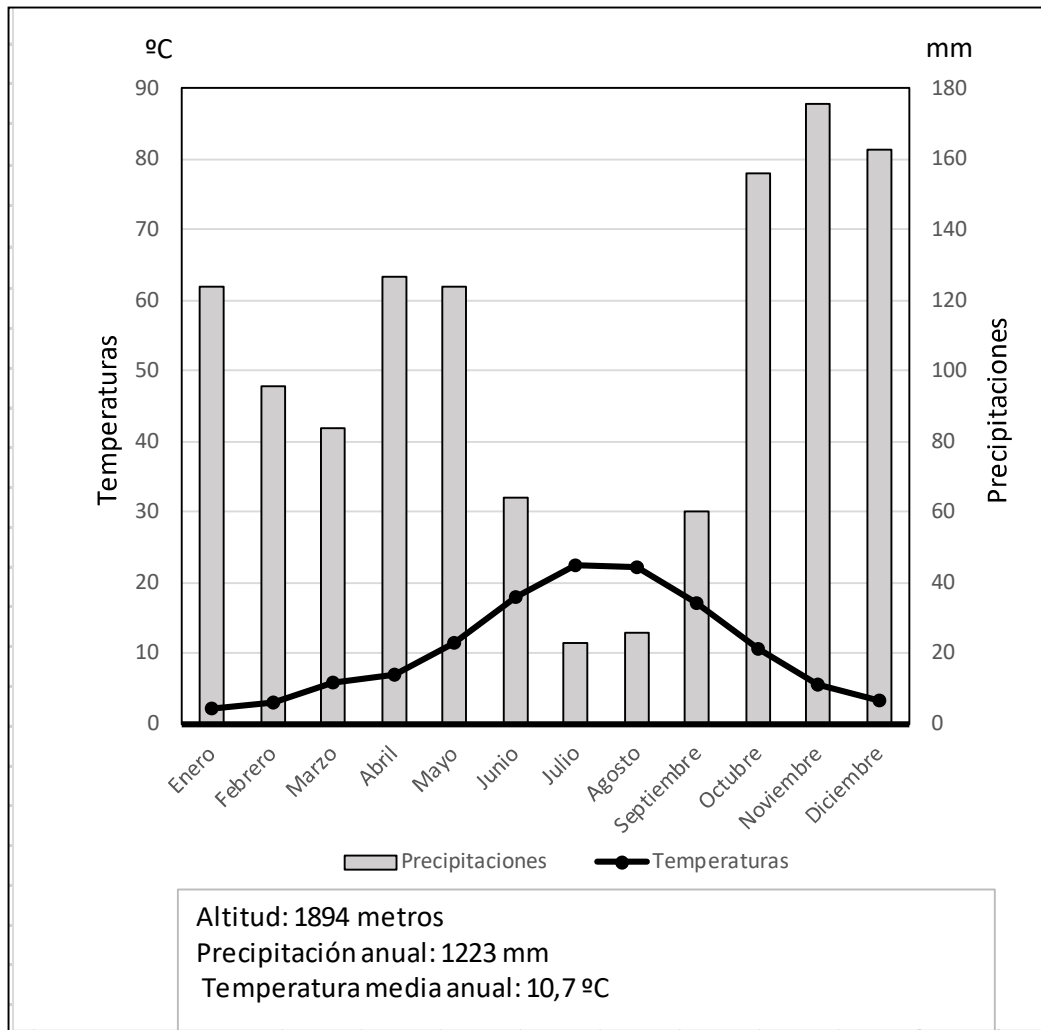
3ª Parte: Comente la **lámina etiquetada con la Opción B**, en el siguiente orden:

1. Elementos del medio físico.
2. Elementos del medio humano.
3. La relación entre ellos.
4. Indique el tipo de paisaje geográfico que muestra la fotografía.

Puntuación máxima: 1,5 Puntos

4ª Parte: Realice un comentario del siguiente climograma, atendiendo, al menos, a estos aspectos:

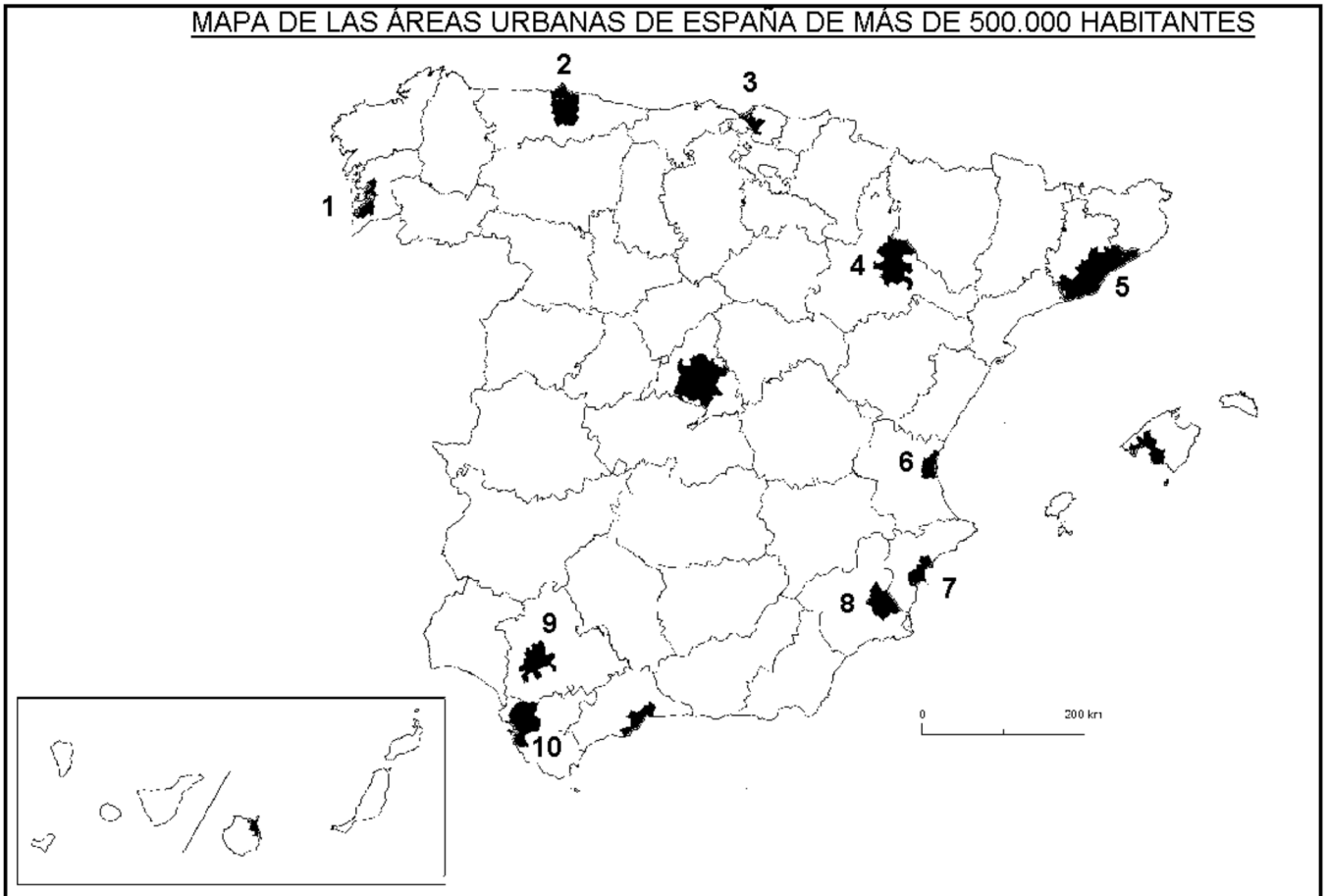
1. Régimen de las temperaturas medias mensuales y de las precipitaciones.
2. Pertenencia a alguna de las variedades climáticas de España, y su área de distribución.



	E	F	M	A	M	J	J	A	S	O	N	D	Media	Total
Temperaturas (°C)	2,3	3	5,8	7	11,5	18	22,4	22,2	17,2	10,6	5,6	3,3	10,7	
Precipitaciones (mm)	124	96	84	127	124	64	23	26	60	156	176	163		1.223

Puntuación máxima: 2 Puntos

5ª Parte: A la vista del “Mapa de las áreas urbanas de España de mas de 500.000 habitantes,” identifique y nombre cada una de las provincias donde se encuentran las áreas numeradas. Comente las posibles razones de esta distribución.



Fuente: Ministerio de Fomento

Puntuación máxima: 2 Puntos